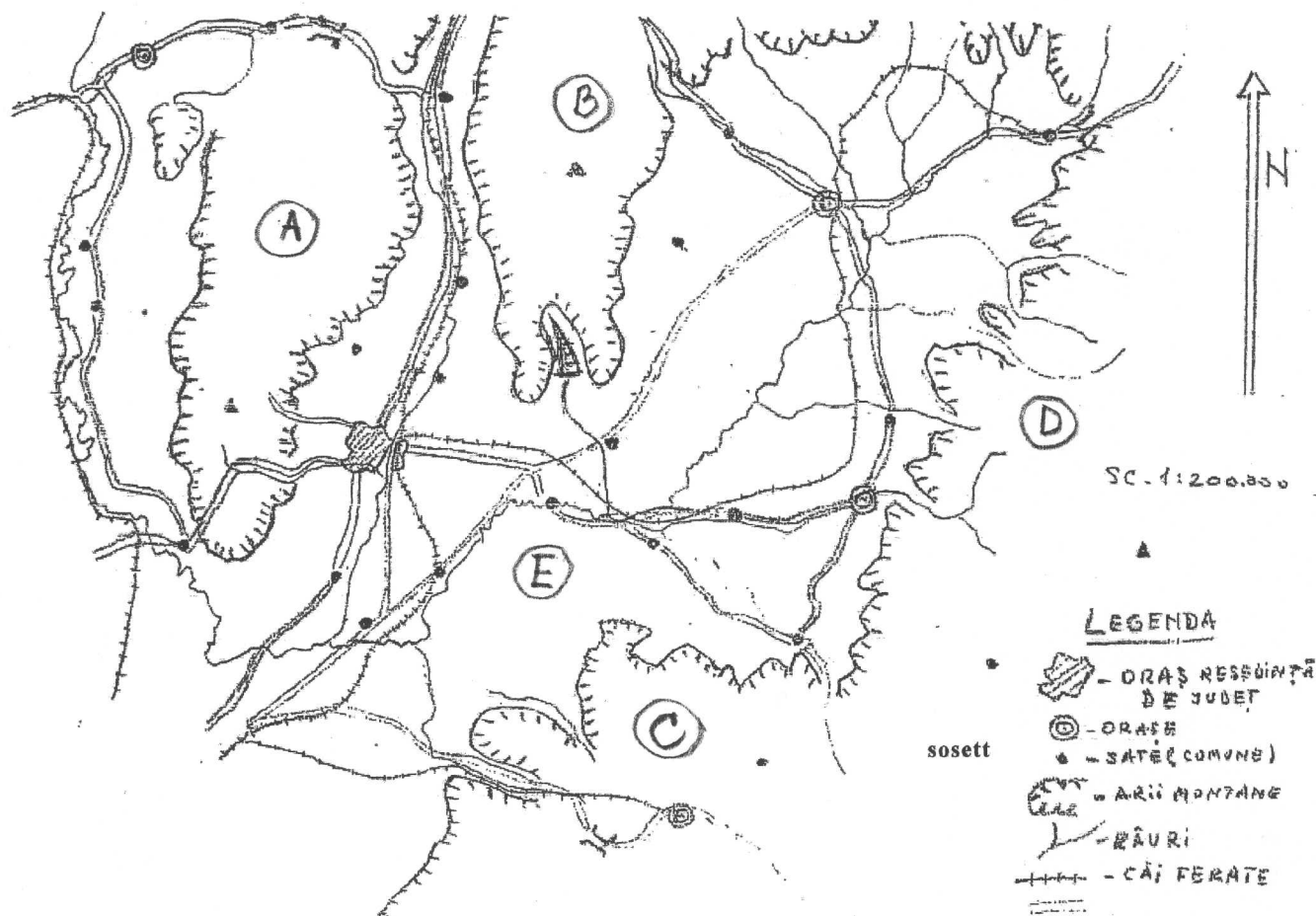


Olimpiada de geografie – faza județeană
Proba practică
Clasa a VIII-a

Numele.....
 Clasa.....
 Școala.....



I. Indicați denumirea unităților de relief marcate cu majuscule pe schița județului Covasna de mai sus (A – E) 30 puncte

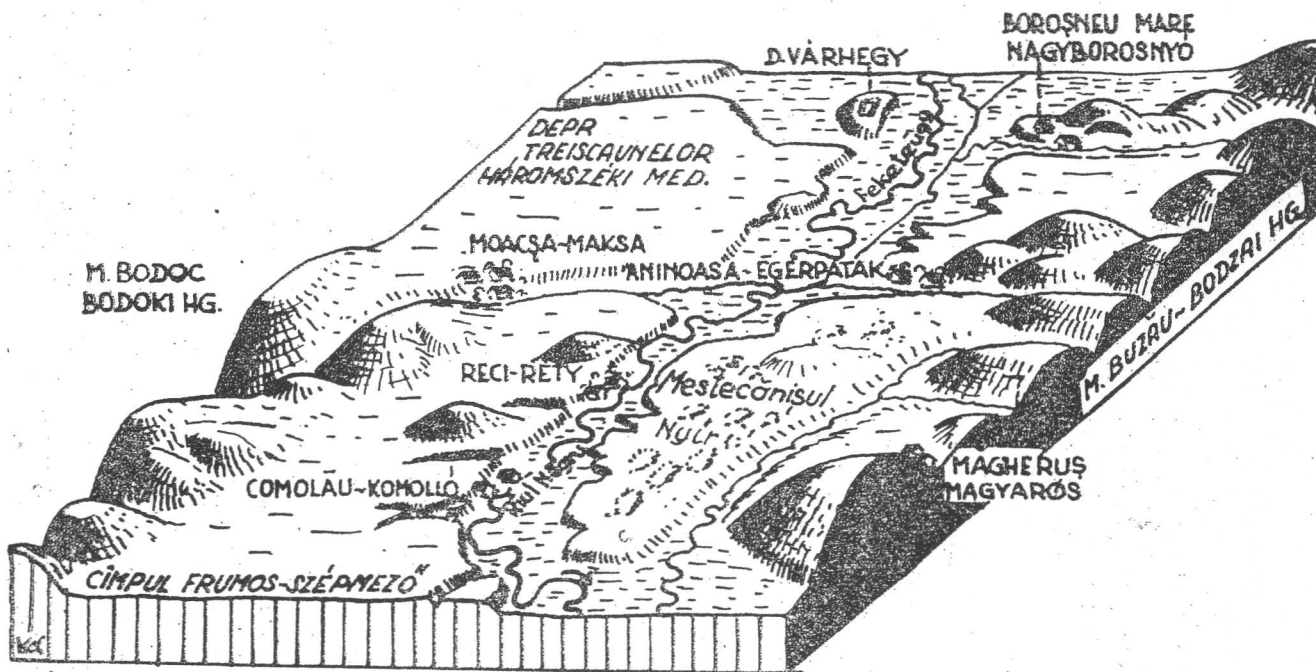
II. Treceți pe schița județului Covasna de mai sus denumirile orașelor. 30 puncte

III. Treceți pe schița județului Covasna de mai sus denumirile a cinci ape curgătoare. 30 puncte

din oficiu 10 puncte
 Total: 100 puncte

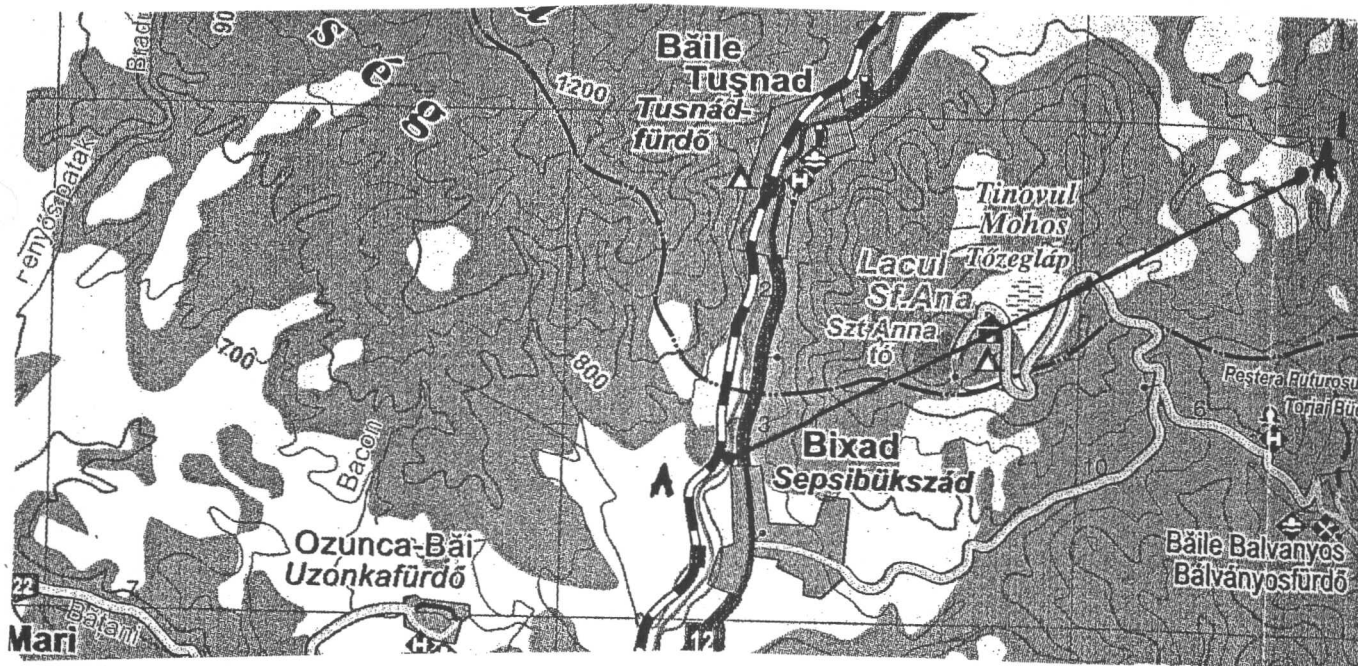
Olimpiada de geografie – faza județeană
Proba practică
Clasa a IX-a

Numele.....
 Clasa.....
 Scoala.....



I. Marcați pe blocdiagrama de mai sus elementele văii Râului Negru.

45 puncte

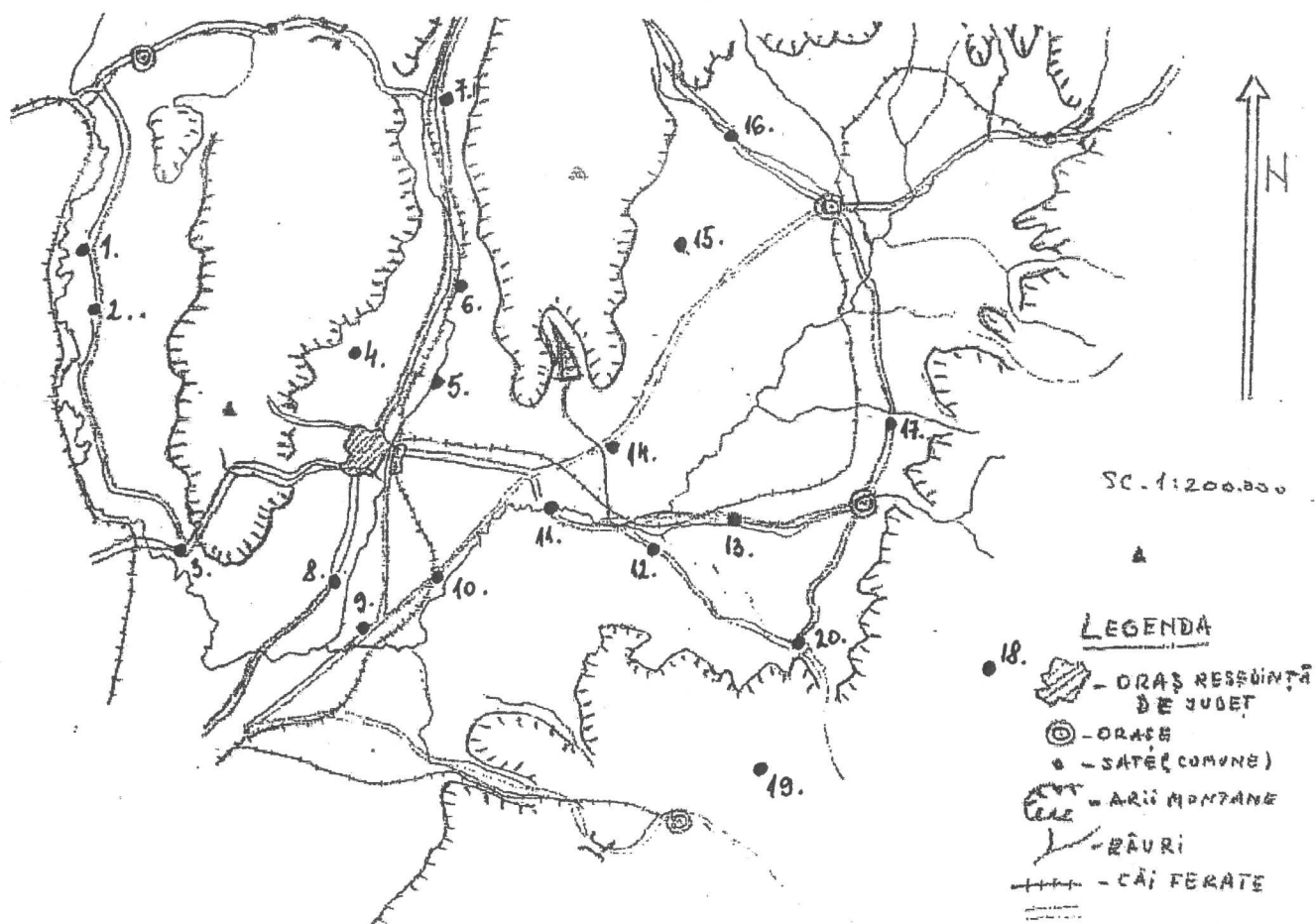


II. Construiți profilul A –A' marcat pe harta de mai sus și indicați pe aceasta formele de relief.

45 puncte
 din oficiu 10 puncte
 Total: 100 puncte

Olimpiada de geografie – faza județeană
Proba practică
Clasa a X-a

Numele.....
 Clasa.....
 Scoala.....



I. Marcați pe schița de mai sus denumirea a nouă așezări rurale.

45 puncte

II Tabelul alăturat arată schimbarea numărului locuitorilor orașului Sfântu Gheorghe.

1992	1998	2002	2003	2006	2007
68 359	67 142	63 363	63 087	62 021	61 704

a.) Determinați perioada cu cea mai pronunțată scădere demografică,

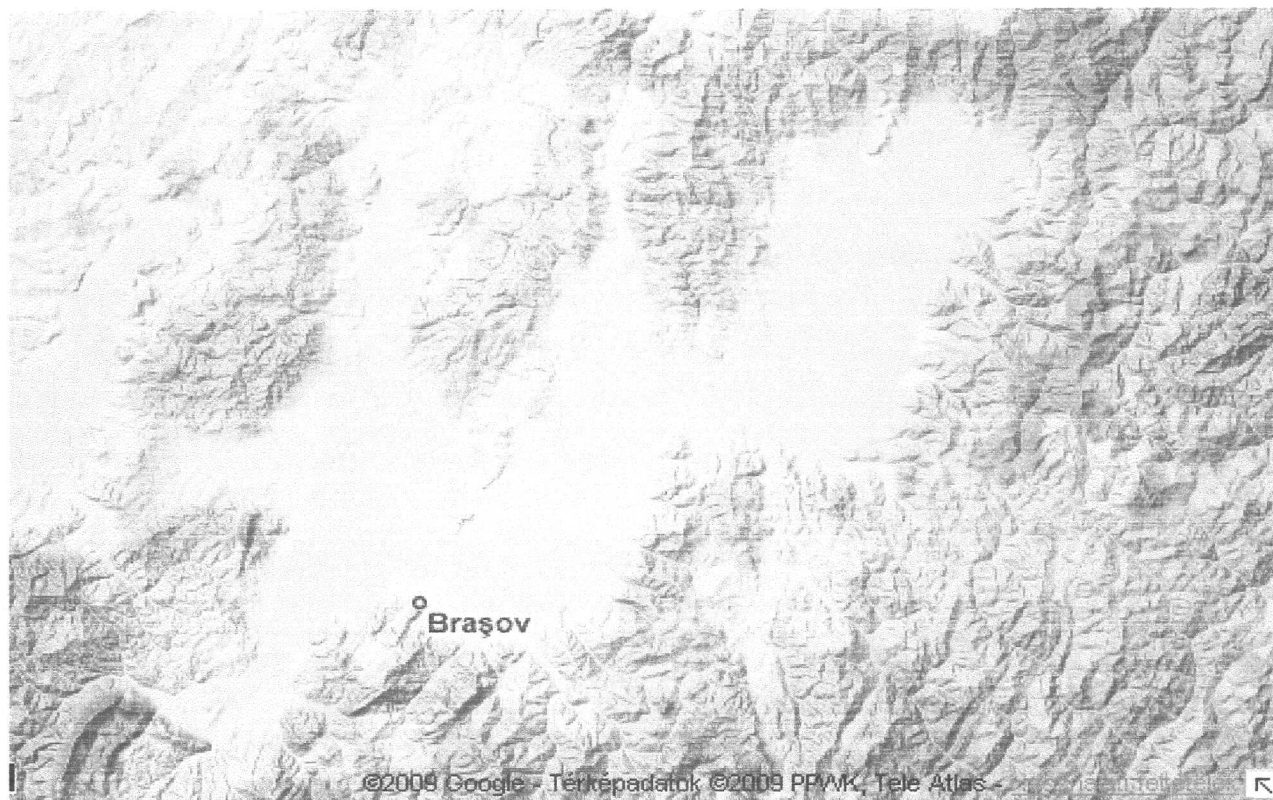
b.) Indicați două cauze ale acestui fenomen.

45 puncte

din oficiu 10 puncte
 Total: 100 puncte

Olimpiada de geografie – faza județeană
Proba practică
Clasa a XI-a

Numele.....
Clasa.....
Școala.....



I. Marcați pe imaginea de satelit alăturată , utilizând semne convenționale, cinci resurse naturale ale județului și indicați ramurile economice care le utilizează.

40 puncte

II. Enumerați cinci hazarde naturale care pot periclita viața economică din județul Covasna și explicați modul cum se acestea își exercită efectul.

50 puncte

din oficiu 10 puncte
Total: 100 puncte

Olimpiada de geografie – faza județeană
Proba practică
Clasa a XII-a

Numele.....
Clasa.....
Scoala.....

- I. În tabelul de mai jos sunt trecute valorile medii multianuale ale temperaturilor și a precipitațiilor lunare la stația meteorologică Sfântu Gheorghe.
- Pe baza datelor din tabel calculați temperatura medie anuală și cantitatea anuală de precipitații și
 - construiți climograma de la această stație meteorologică.

Luna	I.	II.	III.	IV.	V.	VI.	VII.	VIII.	IX.	X.	XI.	XII.
Temperatura (°C)	5,2	-2,5	2,9	8,1	13,7	16,5	18,4	17,2	13,6	9	2,9	-2
Precipitații (mm)	24	21	29	46	70	104	100	81	51	40	25	27

50 puncte

- II. Indicați modalități de dezvoltare a județului Covasna, în context european, pe baza resurselor locale.

30 puncte

din oficiu **10 puncte**
Total: **100 puncte**